




REGION SEVERNÍ EVROPA



SP: Zakresli do mapky Severní Evropy

- 4 nejdelší fjordy, kolik měří nejdelší?
- města Lulea, Narvik, Malmö
- závislá území Faerské o.(Dán.), Špicberky (Nor.)



- kde se těží ropa, zemní plyn a železo zazač příslušnými značkami a napiš vysvětlivky





Historie:

- **Vikingové** – germánské kmeny rozšířené po celém světě válečníci, objevili nové země mistři ve stavbě lodí





Přírodní poměry:

Poloha:

- izolovaná, zasahuje až za polární kruh
- nevýhodný tvar států

Povrch:

- krátké řeky s velkým spádem - výroba el. energie
- ovlivněn činností ledovce = *rozhodující integrační prvek*
 - ledovcová jezera – doprava
 - fjordy (Sognefjord d. 204 km, š. 1,5 – 6 km)

Podnebí:

- oceánské, drsné
- na JZ zmírněno Severoatlant. proudem (*přístav Narvik nezamrzá, ale Lulea v Botnickém zálivu ano*)



Obyvatelstvo:

- nerovnoměrně rozmístěno, nejvíc J pobřeží
- hustota 20 obyv. na km²
- 80% ve městech
- království:
 - Švédsko - Carl XVI. Gustaf
 - Dánsko - Margrethe II.
 - Norsko - Harald V.
- luteránství 90%
- podobný jazyk (kromě Finska)



Státy Severní Evropy

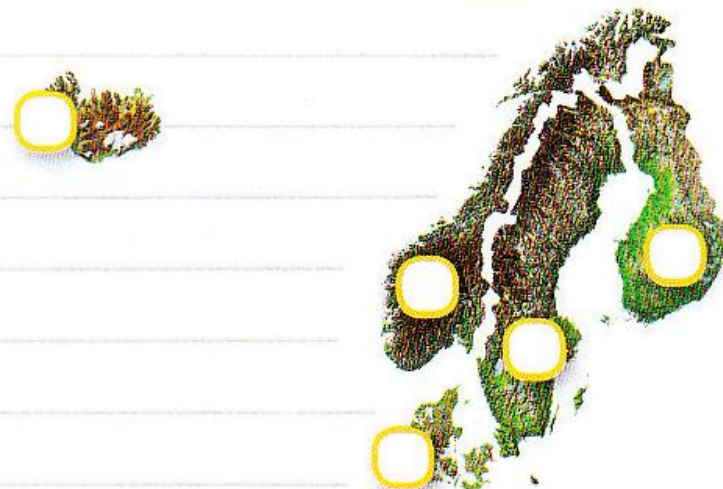
- ŠVÉDSKO
- NORSKO
- FINSKO
- DÁNSKO
- ISLAND

PRACOVNÍ SEŠIT



str. 20 / cv. č. 1 – 4





1.

Zakresli do mapy státy, které řadíme do regionu Severní Evropy. Doplň tabulku.

	stát	hlavní město	státní zřízení	počet obyvatel
1.	Švédsko		království	9,5 mil.
2.				
3.				
4.				
5.				



2.

Vyhledej v mapce názvy největších švédských jezer:

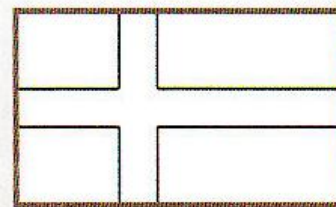
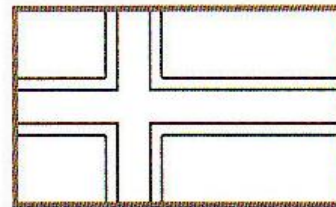
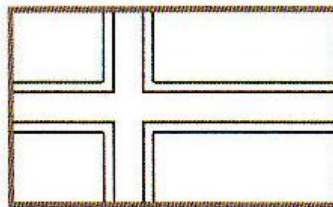
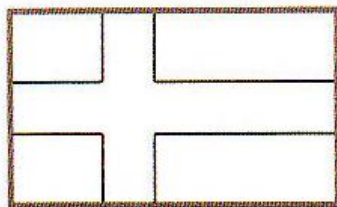
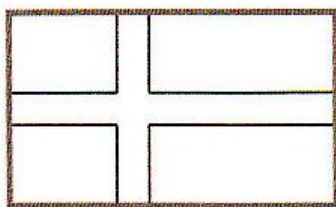
A. V N

B. V T



3.

Severské státy mají stejný styl státních vlajek, poznej, kterým státům patří obrysy, a správně je vybarvi.





4.

Znáš tyto slavné osobnosti? Dopiš k nim státy, odkud pocházejí.

A. Hans Christian Andersen

B. Alfred Nobel

C. Roald Amundsen

D. Mika Häkkinen
